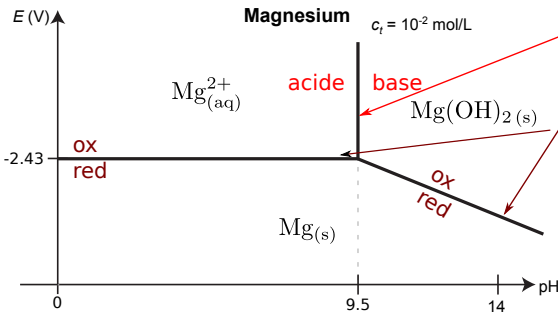




I Principes de construction et de lecture d'un diagramme E-pH

1 - Introduction

Donne l'espèce prédominante selon le pH et le potentiel, et les zones d'existence des solides.

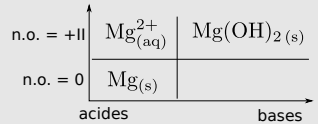


3 - Détails sur les conventions de tracé

Solides présents, $[A_{(aq)}] = c_{\text{tracé}}$, $p = p_{\text{tracé}}$

2 - Construction sur l'exemple du magnésium

a/ Liste des espèces et diagramme de principe

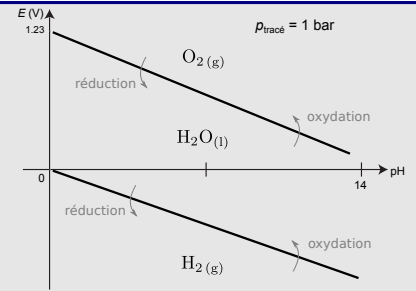
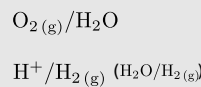


b/ Équation des frontières verticales

c/ Équation des frontières horizontales ou obliques → f. de Nernst

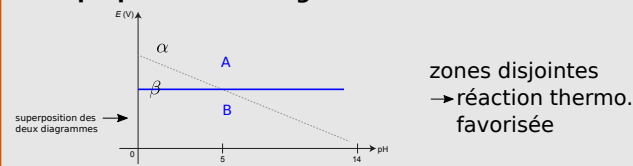
d/ Diagramme final

4 - Le diagramme de l'eau



II Exploitation des diagrammes pour la prévision de réactions

1 - Superposition de diagrammes



2 - Dismutation

Espèce à la fois oxydée et réduite

Réaction inverse : médimutation

Sur un diagramme : si présence d'un point entouré de 3 n.o. différents.

Ce qu'il faut connaître

(cours : I)

- ▶₁ Quels sont les couples redox de l'eau ? Les demi-équations associées ? L'allure du diagramme E-pH de l'eau ?
- ▶₂ Connaître le principe d'un diagramme E-pH : zones de prédominances, d'existence des espèces solides, concentration de tracé ou pression de tracé.
- ▶₃ À quel type de couple une frontière verticale est-elle associée ? Et une frontière horizontale ou oblique ?

Ce qu'il faut savoir faire

(cours : I)

- ▶₄ Positionner des espèces chimiques données dans un diagramme E-pH → **EC1, EC2**
- ▶₅ Donner les couples redox de l'eau, les demi-équations associées, et l'allure du diagramme E-pH de l'eau. Démontrer l'équation des deux frontières.
- ▶₆ Dans un diagramme E-pH, retrouver la position (le pH) d'une frontière verticale, de la pente d'une frontière oblique ou la position (le potentiel) d'une frontière horizontale. → **EC1**

(cours : II)

- ▶₇ Utiliser la superposition de deux diagrammes pour prévoir les réactions thermodynamiquement favorisées → **EC2**
En particulier : utiliser une superposition avec le diagramme de l'eau pour en déduire la stabilité thermodynamique d'une espèce chimique dans l'eau.
- ▶₈ Confronter les prévisions faites à partir du diagramme à des données expérimentales. Interpréter les éventuels écart en termes cinétiques (TD II).
- ▶₉ Repérer une dismutation ou une médimutation et la justifier → **EC3**

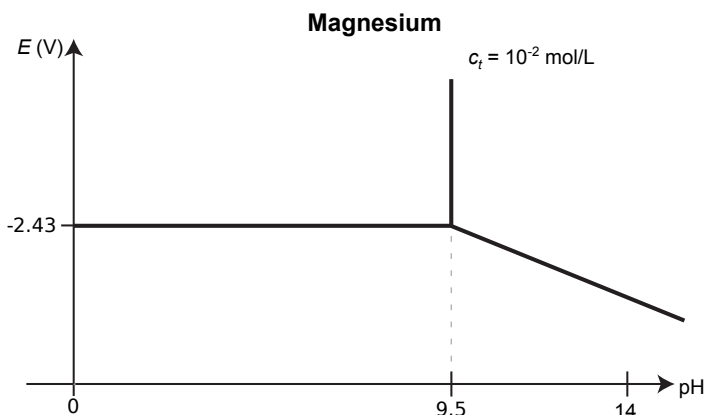
Exercices de cours

Exercice C1 – Construction d'un diagramme E-pH

On donne ci-contre le diagramme E-pH de l'élément magnésium, où on considère les espèces $\text{Mg}_{(\text{aq})}^{2+}$, $\text{Mg}(\text{OH})_{2(\text{s})}$ et $\text{Mg}_{(\text{s})}$.

La concentration de tracé est $c_t = 10^{-2} \text{ mol/L}$, et correspond à la concentration totale en soluté aux frontières soluté-solide. On donne $E_{\text{Mg}(\text{OH})_2/\text{Mg}}^\circ = -1,86 \text{ V}$, $E_{\text{Mg}^{2+}/\text{Mg}}^\circ = -2,37 \text{ V}$, produit de solubilité de $\text{Mg}(\text{OH})_{2(\text{s})}$: $\text{pK}_s = 11$.

- 1 - Attribuer les espèces chimiques à chacun des trois domaines du diagramme.
- 2 - Retrouver la position de la frontière verticale.
- 3 - Retrouver la position de la frontière horizontale.
- 4 - Retrouver la pente de la frontière oblique.

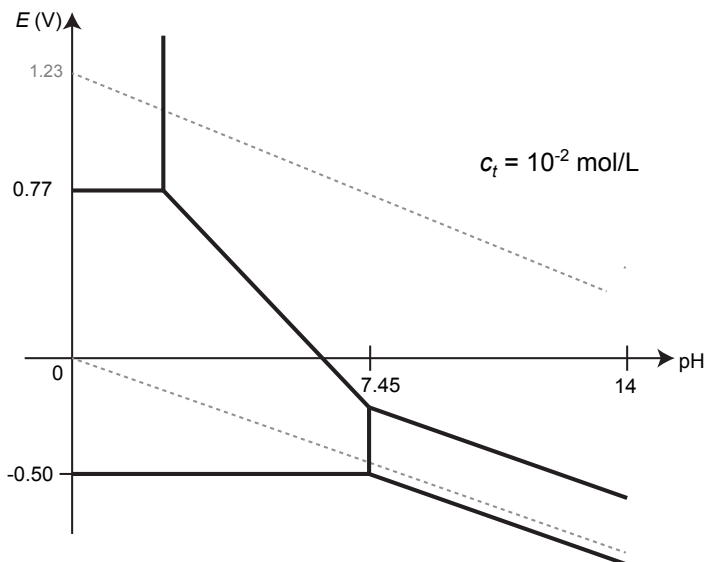


Exercice C2 – Stabilité de l'élément fer dans l'eau

On considère ci-contre le diagramme E-pH du fer (en traits pleins), tracé pour les espèces chimiques fer solide $\text{Fe}_{(\text{s})}$, ion fer II Fe^{2+} , ions fer III Fe^{3+} , hydroxyde de fer II $\text{Fe}(\text{OH})_{2(\text{s})}$ et hydroxyde de fer III $\text{Fe}(\text{OH})_{3(\text{s})}$.

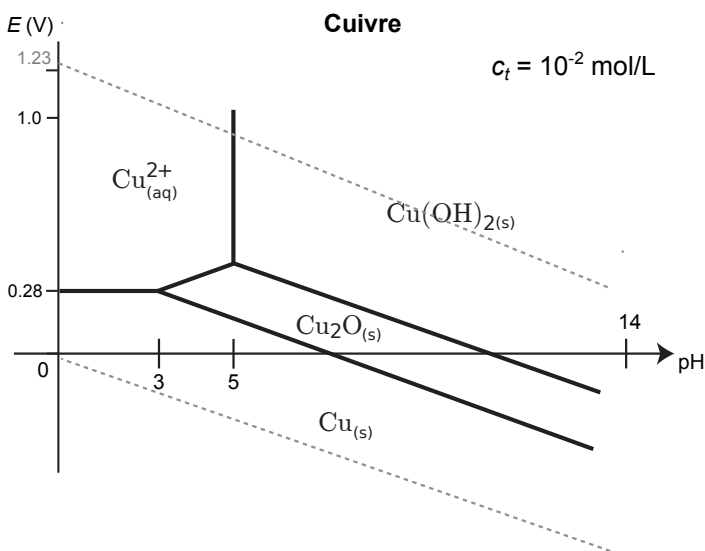
En traits pointillés est tracé le diagramme de l'eau.

- 1 - Attribuer chaque espèce à son domaine.
- 2 - Le fer est-il stable dans l'eau en milieu acide?
Si non, écrire l'équation de sa réaction avec l'eau.
- 3 - Même question en milieu basique.



Exercice C3 – Repérer une dismutation

- 1 - On considère le diagramme E-pH du cuivre ci-contre.
On considère du Cu_2O en solution, à $\text{pH} = 5$.
On acidifie progressivement la solution.
Que se passe-t-il? À quel pH? Écrire l'équation de la réaction correspondante.



I – Principes de construction et de lecture d'un diagramme E-pH

1 – Introduction

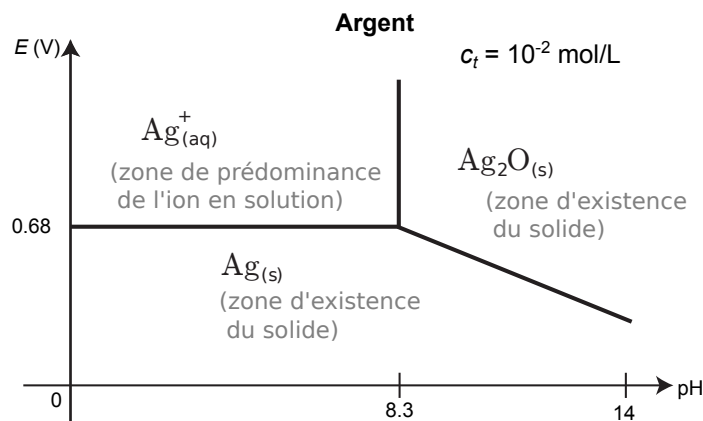
- Nous avons vu des diagrammes de prédominance (ou d'existence avec les précipités) pour les couples acide/base : l'axe est alors gradué en pH ;
- et des diagrammes de prédominance pour les couples Ox/Red : l'axe est alors gradué en potentiel E .

Mais de nombreux éléments sont présents à la fois dans des couples acidobasiques et redox. L'espèce prédominante dépend alors à la fois du pH *et* du potentiel E .

Il faut donc un nouveau type de diagramme, qui combine les deux, avec deux axes : potentiel en ordonné, pH en abscisse.

On parle de **diagramme potentiel-pH**, ou **diagramme E-pH**.

Ci-contre l'exemple du diagramme de prédominance de l'élément argent, qui donne l'espèce prédominante en fonction du pH et du potentiel de la solution.



2 – Construction sur l'exemple du magnésium

Nous allons construire le diagramme E-pH du magnésium.

On utilisera les données suivantes : $E_{\text{Mg}^{2+}/\text{Mg}}^{\circ} = -2,37 \text{ V}$, et produit de solubilité de $\text{Mg}(\text{OH})_2(\text{s})$: $\text{pK}_s = 11$.

a/ Liste des espèces et diagramme de principe

Le diagramme dépend d'abord des espèces chimiques considérées (ce choix pouvant dépendre des situations).

Ici on considère : le magnésium métallique $\text{Mg}(\text{s})$, l'ion magnésium $\text{Mg}^{2+}(\text{aq})$, l'hydroxyde de magnésium $\text{Mg}(\text{OH})_2(\text{s})$.

★ **Étape 1** : grouper les espèces par n.o. commun.

On détermine le n.o. de Mg dans chaque espèce :

- $\text{Mg}(\text{s})$:
- Mg^{2+} :
- $\text{Mg}(\text{OH})_2(\text{s})$:

★ **Étape 2** : à n.o. constant, il s'agit de couples acide/base.

Il faut donc déterminer qui est l'acide et qui est la base parmi Mg^{2+} et $\text{Mg}(\text{OH})_2(\text{s})$.

Méthode : trouver qui est l'acide/la base entre deux espèces de même n.o.

On écrit la réaction entre les deux (on l'équilibre avec la même méthode que pour les réactions redox, sauf qu'ici il n'y a pas besoin d'électrons dans la dernière étape) :

on équilibre l'élément Mg :
on équilibre O avec H_2O :
on équilibre H avec H^+ :

Pas besoin d'équilibrer les charges avec des électrons car ce n'est pas une réaction redox (ou alors il y a une erreur).

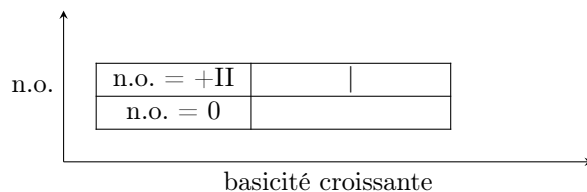
Enfin, on se souvient de la forme générale $\underbrace{\text{AH}}_{\text{acide}} = \underbrace{\text{A}^-}_{\text{base}} + \text{H}^+$, donc la base est du côté des H^+ .

Ici on a donc le couple acide/base : $\text{Mg}^{2+}/\text{Mg}(\text{OH})_2(\text{s})$.

★ **Étape 3** : faire un diagramme de principe (aussi appelé de situation, schématique, pré-diagramme, etc.).

- On place les espèces de n.o. élevé (donc plutôt oxydantes) à potentiel E élevé et celle de n.o. faible à E faible.
- Au sein d'un même n.o., on a des couples acide/base : on place les acides à bas pH et les bases à pH élevé.

Ici on a donc :



Ce diagramme donne l'allure générale du diagramme E-pH final. Cependant il ne permet pas de connaître la position ou la pente des frontières : nous allons voir ceci dans les parties b/ et c/ ci-dessous.

Nature des frontières

- ▶ Une frontière **verticale** sépare deux espèces d'un couple **acide/base**, donc de même n.o.
Acide à gauche (bas pH) et base à droite.
- ▶ Une frontière **horizontale ou oblique** sépare deux espèces d'un couple **Ox/Red**, donc de n.o. différents.
L'oxydant (n.o. élevé) est en haut, le réducteur en bas.

Remarque : Les hydroxydes sont de la forme $A(OH)_n^{p+}$, et sont obtenus en ajoutant des ions hydroxydes OH^- . Ainsi plus l'indice n est élevé, plus ils sont "basiques" et donc à droite dans le diagramme. Par exemple on a les couples acide/base $Zn^{2+}/Zn(OH)_2$, $Zn(OH)_2/Zn(OH)_4^{2-}$.

Cependant on attend une démonstration comme ci-dessus, avec écriture de l'équation faisant intervenir H^+ .

b/ Équation des frontières verticales (acide/base)

Quelle est la position de la frontière acide/base entre Mg^{2+} et $Mg(OH)_{2(s)}$?

Il faut se donner une **convention de tracé**. Ici nous supposons que sur une frontière entre un soluté et un solide, le solide est **présent** et la concentration du soluté est égale à la **concentration de tracé** $c_t = 10^{-2}$ mol/L (valeur choisie par convention, dépend des cas).

Méthode : Comment déterminer la position d'une frontière verticale ? (frontière acide/base)

On prend l'exemple de $Mg(OH)_{2(s)}$ et $Mg_{(aq)}^{2+}$, avec $c_{tracé} = 1,0 \times 10^{-2}$ mol/L.

- On vérifie d'abord que l'élément (ici le magnésium) est au même n.o. dans chacune des espèces chimiques. Sinon il ne s'agit pas d'une frontière verticale, mais d'une frontière oblique ou horizontale.
- On écrit une équation de réaction entre les deux espèces, pour laquelle on connaît la constante d'équilibre.

Ici on connaît le pKs du solide, donc on doit écrire sa réaction de dissolution :

(voir remarque à la fin si K° n'est pas donné).

Une frontière verticale correspond à un couple acide/base, il n'y a donc pas d'électrons qui apparaissent !

- On écrit que sur la frontière, la réaction est à l'équilibre thermodynamique (s'il y a des solides on suppose qu'ils sont présents).

On utilise donc la loi d'action des masses $K^\circ = Q_r$, et pour Q_r :

- On exploite la convention de tracé, par exemple on remplace les concentrations par $c_{tracé}$ et les pressions par $p_{tracé}$.
- Si $[HO^-]$ est présent, on multiplie en haut et en bas par $[H^+]$ pour faire apparaître $[HO^-][H^+] = K_e$.
- On prend le logarithme. Il apparaît alors un terme en $-\log[H^+] = \text{pH}$.

Ici la loi d'action des masses pour la réaction écrite est :

En passant au logarithme :

- On isole le pH. On a alors la position de la frontière.

Remarque : Dans le cas où la constante K° de la réaction n'est pas connue, il faut essayer de l'obtenir à partir d'autres constantes. Pour cela, on essaie d'obtenir l'équation de la réaction voulue comme combinaison d'autres réactions dont on connaît les constantes.

Conclusion pour le diagramme de Mg : la frontière verticale est à $\text{pH} = 9,5$. C'est bien ce qu'on a page suivante.

c/ Équation des frontières horizontales ou obliques (redox)

Dans notre exemple il y a deux frontières redox : celle entre $\text{Mg}_{(s)}$ et $\text{Mg}(\text{OH})_{2(s)}$, et celle entre $\text{Mg}_{(s)}$ et $\text{Mg}_{(aq)}^{2+}$.

Qui dit frontière redox dit... formule de Nernst.

Méthode : Comment déterminer l'équation d'une frontière horizontale ou oblique ? (frontière ox/red)

- Il s'agit nécessairement de la frontière entre un oxydant et le réducteur associé.
- On écrit la demi-équation électronique correspondante.
- À partir de celle-ci, on écrit la formule de Nernst.

Puis dans cette formule :

- On utilise la convention de tracé : par exemple on remplace les concentrations par $c_{\text{tracé}}$ et les pressions par $p_{\text{tracé}}$.
- Si $[\text{HO}^-]$ est présent, on multiplie en haut et en bas par $[\text{H}^+]$ pour faire apparaître $[\text{HO}^-][\text{H}^+] = K_e$.
- S'il y a un terme en $-\log[\text{H}^+] = \text{pH}$, on le garde. Le coefficient en facteur donne alors la pente.

Remarque : Ceci permet aussi d'obtenir l'ordonnée à l'origine si besoin.

★ Application à la frontière du couple Ox/Red $\text{Mg}(\text{OH})_{2(s)}/\text{Mg}_{(s)}$:

- Demi-équation :

Attention : on l'écrit toujours en milieu acide (avec H^+ , et pas avec HO^-), car les potentiels standards E° de la formule de Nernst sont tabulés pour une écriture en milieu acide.

- Formule de Nernst :

(on indique "en volt" car il est entendu qu'une A.N. donne un résultat en volt)

- Conclusion : la frontière est une droite de pente $-0,06 \text{ V/u.pH}$ (se prononce “volt par unité pH”), et d’ordonnée à l’origine $E_{\text{Mg(OH)}_2/\text{Mg}}^\circ$ (peu importe sa valeur, c’est surtout la pente qui nous intéresse).
C’est bien ce que l’on a sur le diagramme final ci-dessous.

★ Application à la frontière du couple Ox/Red $\text{Mg}^{2+}/\text{Mg}_{(s)}$:

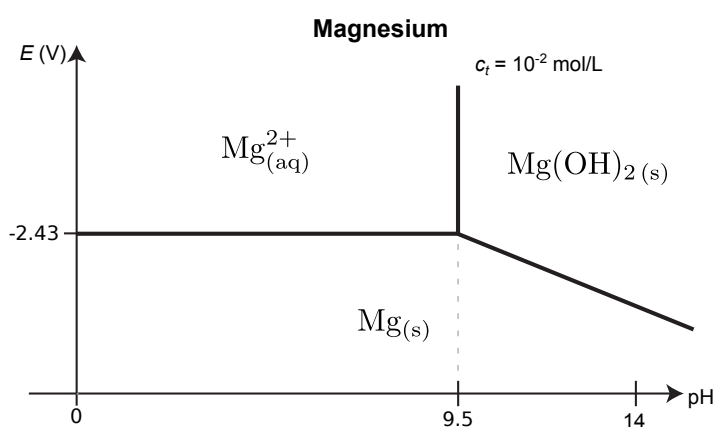
- Demi-équation :
- Formule de Nernst :

- Conclusion : la frontière est une droite horizontale $E = -2,37 + 0,03 \log 10^{-2} = -2,43 \text{ V}$.
C’est bien ce que l’on a sur le diagramme final ci-dessous.

d/ Diagramme final

Finalement, on obtient le diagramme ci-contre.

→ L’**EC1** reprend la construction de ce diagramme. Le faire pour s’entraîner.



Remarque : Utilisation de la continuité :

La frontière est toujours continue. Ici par exemple la frontière entre $\text{Mg}^{2+}/\text{Mg}_{(s)}$ et celle entre $\text{Mg(OH)}_2_{(s)}/\text{Mg}_{(s)}$ se croisent à $\text{pH} = 9,5$ pour assurer une continuité.

Ceci peut parfois être utilisé pour déterminer un E° manquant, par exemple ici celui de $\text{Mg(OH)}_2_{(s)}/\text{Mg}_{(s)}$, en écrivant l'égalité au point de croisement :

$$E_{\text{Mg(OH)}_2/\text{Mg}}^\circ - 0,06 \underbrace{\text{pH}}_{=9,5} = E_{\text{Mg}^{2+}/\text{Mg}}^\circ + \frac{0,06}{2} \log c_{\text{tracé}}$$

$$\text{D'où } E_{\text{Mg(OH)}_2/\text{Mg}}^\circ = 0,06 \times 9,5 + (-2,37) + \frac{0,06}{2}(-2) = -1,86 \text{ V.}$$

3 – Des détails sur les conventions de tracé

- **Frontière entre un solide et une espèce dissoute en solution :**

Sur la frontière, le solide est présent (on peut donc utiliser $K^\circ = Q_r$), et la concentration de l'espèce dissoute est égale à $c_{\text{tracé}}$.

Exemple :

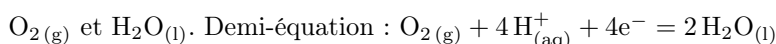
$\text{Mg}_{(aq)}^{2+}$ et $\text{Mg}_{(s)}$. Demi-équation : $\text{Mg}_{(aq)}^{2+} + 2e^- = \text{Mg}_{(s)}$

$$\begin{aligned} \rightarrow E &= E_{\text{Mg}^{2+}/\text{Zn}_{(s)}}^\circ + \frac{0,06}{2} \log \frac{[\text{Mg}^{2+}]}{C^\circ} \\ &= E_{\text{Mg}^{2+}/\text{Zn}_{(s)}}^\circ + \frac{0,06}{2} \log \frac{c_{\text{tracé}}}{C^\circ}. \end{aligned}$$

• **Frontière avec une espèce gazeuse :**

Sur la frontière, la **pression partielle en l'espèce gazeuse est égale à la pression de tracée** $p_{\text{tracé}}$, qui vaut très souvent 1 bar.

Exemple :



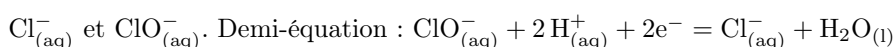
$$\begin{aligned} \rightarrow E &= E^\circ_{\text{O}_{2(\text{g})}/\text{H}_2\text{O}_{(\text{l})}} + \frac{0,06}{4} \log \frac{[\text{H}^+]^4 p_{\text{O}_2}}{(C^\circ)^4 p^\circ} \\ &= E^\circ_{\text{O}_{2(\text{g})}/\text{H}_2\text{O}_{(\text{l})}} + \frac{0,06}{4} \log \frac{p_{\text{tracé}}}{p^\circ} - 0,06 \text{ pH}. \end{aligned}$$

• **Frontière entre deux espèces dissoutes en solution :**

Sur la frontière, la **concentration de chaque espèce est égale à $c_{\text{tracé}}$** .

(Attention ceci ne concerne pas H^+ ! car il donne lieu a un terme en pH)

Exemple :



$$\rightarrow E = E^\circ_{\text{ClO}^-/\text{Cl}^-} + \frac{0,06}{2} \log \frac{[\text{ClO}^-][\text{H}^+]^2}{[\text{Cl}^-](C^\circ)^2}$$

Or $[\text{ClO}^-] = c_{\text{tracé}}$ et $[\text{Cl}^-] = c_{\text{tracé}}$. Donc

$$\begin{aligned} E &= E^\circ_{\text{ClO}^-/\text{Cl}^-} + \frac{0,06}{2} \log \frac{c_{\text{tracé}}[\text{H}^+]^2}{c_{\text{tracé}}(C^\circ)^2} \\ &= E^\circ_{\text{ClO}^-/\text{Cl}^-} - 0,06 \text{ pH}. \end{aligned}$$

Remarque : Il existe d'autres conventions, notamment pour le cas de deux espèces dissoutes en solution. Elles ne changent que très peu la position des frontières.

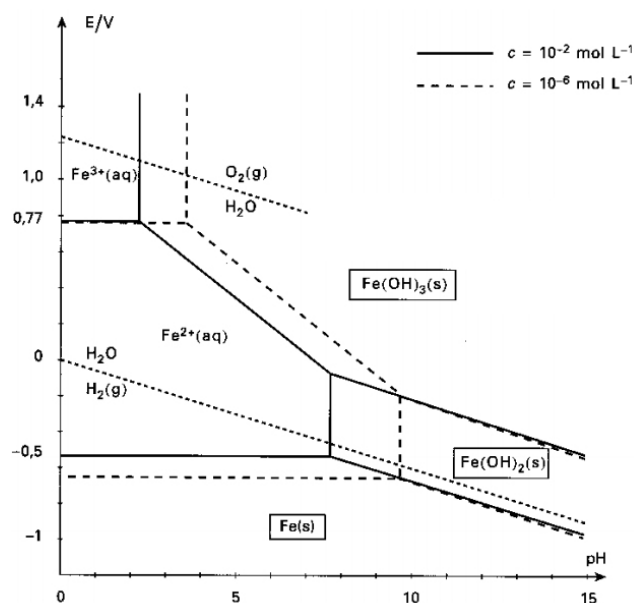
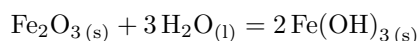
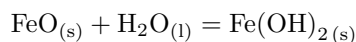
La **concentration de tracé** $c_{\text{tracé}}$ (ainsi que $p_{\text{tracé}}$) est choisie en fonction de la situation pour laquelle on veut utiliser le diagramme E-pH. Elle doit être proche de la concentration réelle des espèces chimiques.

Par exemple on prend souvent $c_{\text{tracé}} = 10^{-1}$ ou 10^{-2} mol/L pour des applications aux titrages ou dosages, et $c_{\text{tracé}} = 10^{-6}$ mol/L pour étudier la corrosion des métaux, ou pour étudier l'influence d'impuretés en faible concentration.

Le **choix des espèces prises en compte** pour construire le diagramme est également important.

On a par exemple le choix entre les hydroxydes (comme $\text{Fe}(\text{OH})_{2(\text{s})}$, $\text{Fe}(\text{OH})_{3(\text{s})}$), et les oxydes correspondant ($\text{FeO}_{(\text{s})}$, $\text{Fe}_2\text{O}_{3(\text{s})}$), et on choisit le plus stable selon la situation.

Remarque : On passe des oxydes aux hydroxydes (de même n.o.) par réaction avec l'eau :



Exemple du diagramme du fer avec deux conventions de tracé. Ceci décale les frontières.

4 – Le diagramme de l'eau

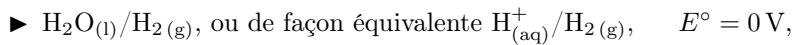
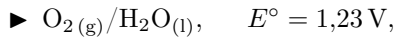
Nous avons déjà vu que l'eau intervient dans deux couples Ox/Red : $O_2(g)/H_2O(l)$ et $H_2O(l)/H_2(g)$.

Ceci permet de tracer un diagramme E-pH avec ces trois espèces.

Pas de couple acide-base, pas de frontières verticales. L'espèce la plus oxydante est O_2 , en haut du diagramme, suivie en dessous par H_2O et H_2 .

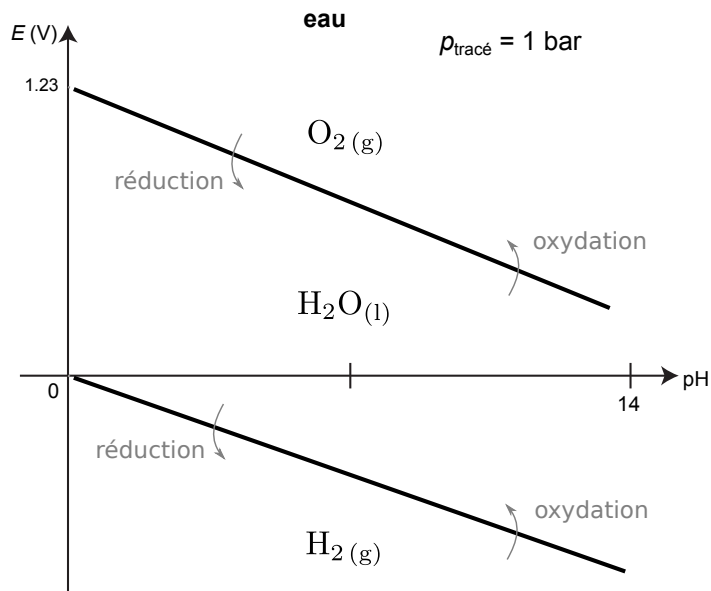
Pour les équations des frontières la méthode est la même : écrire les demi-équations associées, puis la formule de Nernst.

Il y a des espèces gazeuses : la convention de tracé souvent retenue est une pression de tracé $p_{\text{tracé}} = 1 \text{ bar}$.



Ceci donne le diagramme ci-contre.

Il faut connaître ce diagramme.



II – Exploitation des diagrammes pour la prévision de réactions

1 – Superposition de diagrammes

a/ Principe

Rappel : Nous avons déjà superposé des diagrammes de prédominance acide/base ou Ox/Red afin de prévoir si une réaction a lieu ou non. Si le domaine des deux espèces était disjoint (pas de zone de pH commune si acide/base, pas de zone de E commun si Ox/Red), alors les deux espèces ne peuvent coexister et réagissent.

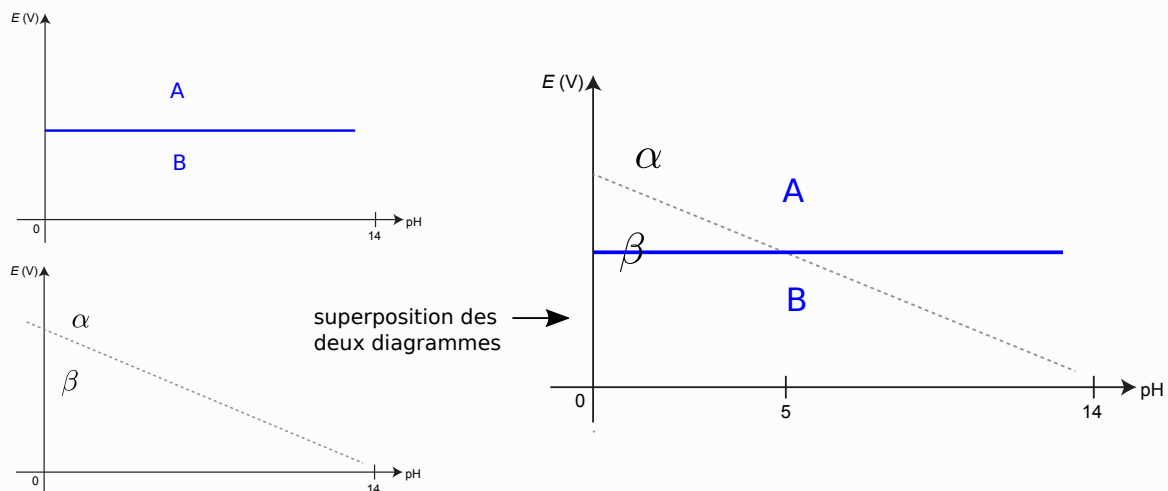
C'est exactement le même principe pour les diagrammes E-pH.

Superposition de diagrammes

- ▶ Si les domaines de deux espèces chimiques sont disjoints, alors leur réaction est thermodynamiquement favorisée.
- ▶ Si les domaines se recoupent, alors leur réaction n'est pas thermodynamiquement favorisée.

Exemple ci-dessous : étudions la possibilité de coexistence des espèces α et B .

- ▶ Pour un pH inférieur à 5, α et B ont des domaines disjoints.
→ Leur réaction est thermodynamiquement favorisée ($K^\circ \gg 1$).
Ainsi ils peuvent pas coexister : α sera réduit en β et B sera oxydé en A .
- ▶ Pour un pH supérieur à 5, α et B ont des domaines avec une zone commune.
→ Leur réaction n'est pas thermodynamiquement favorisée ($K^\circ \ll 1$).
Ainsi ils peuvent coexister pacifiquement dans une même solution.



b/ Exemple : stabilité de Mg dans l'eau

Exemple : Étudions la stabilité du magnésium dans l'eau.

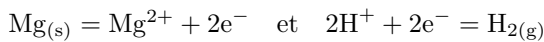
Pour cela, on superpose les deux diagrammes (ci-contre).

- Stabilité du magnésium solide dans l'eau : $\text{Mg}_{(s)}$ et H_2O ont des domaines disjoints pour tout pH, donc $\text{Mg}_{(s)}$ n'est pas stable dans l'eau. Il réagit pour donner soit Mg^{2+} si $\text{pH} < 9,5$, soit $\text{Mg}(\text{OH})_{2(s)}$ si $\text{pH} > 9,5$.

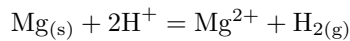
On peut écrire les équations de réaction correspondantes :

- Pour $\text{pH} < 9,5$: $\text{Mg}_{(s)}$ est oxydé en Mg^{2+} et H_2O est réduite en $\text{H}_{2(g)}$.

Les deux demi-équations sont :



On les ajoute pour avoir l'équation bilan :

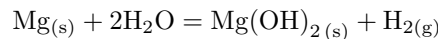


- Pour $\text{pH} > 9,5$: $\text{Mg}_{(s)}$ est oxydé en $\text{Mg}(\text{OH})_{2(s)}$ et H_2O est réduite en $\text{H}_{2(g)}$.

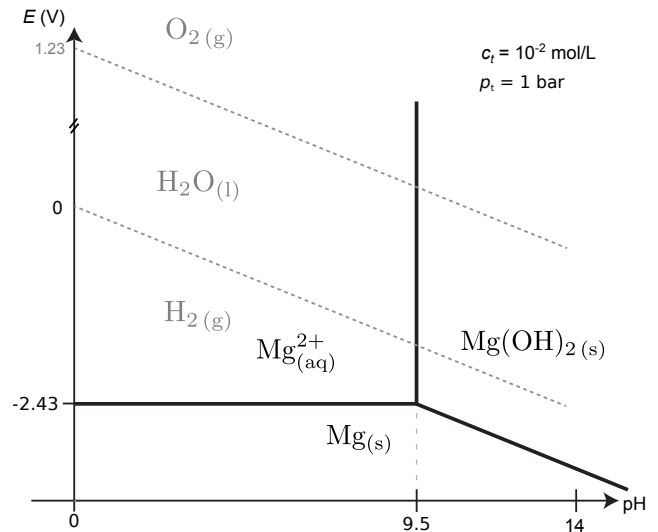
Les deux demi-équations sont :



On les ajoute pour avoir l'équation bilan :



- Stabilité de l'hydroxyde de magnésium (solide) dans l'eau : $\text{Mg}(\text{OH})_{2(s)}$ et H_2O ont une zone commune entre leurs deux domaines : $\text{Mg}(\text{OH})_{2(s)}$ est stable dans l'eau.
- De même, Mg^{2+} est stable dans l'eau, car il possède une zone commune avec H_2O .



Remarque :

- Ce raisonnement donne une information sur la stabilité **thermodynamique** des espèces, donc dit si $K^\circ \gg 1$ ou $K^\circ \ll 1$.

Si l'expérience montre un résultat différent, c'est qu'il y a des facteurs cinétiques en jeu (que le diagramme E-pH ne permet pas d'étudier).

→ Si une réaction prévue par le diagramme n'a pas lieu en pratique, c'est qu'elle est cinétiquement lente, voire bloquée.

(En revanche si le diagramme ne prévoit pas de réaction – car domaines communs – alors elle ne peut pas avoir lieu, la cinétique ne pourra rien arranger!)

c/ Vocabulaire pour l'eau

- La zone de prédominance de H_2O est appelée "domaine d'inertie électrochimique de l'eau".

Si pour un certain pH, la zone de prédominance d'une espèce chimique tombe en partie dans ce domaine de l'eau, alors l'espèce est stable dans l'eau à ce pH.

Ceci est important pour la corrosion ou non corrosion des métaux.

En pratique ce domaine d'inertie de H_2O est un peu plus large que sur le diagramme (de $\sim 0,2$ à $0,6$ V) car les réactions l'impliquant sont lentes (mais ceci n'est pas à retenir).

- Par ailleurs, on rencontre le vocabulaire suivant :

- Eau aérée : eau avec présence de $\text{O}_{2(g)}$ dissout. Ainsi le dioxygène peut aussi attaquer par exemple un métal.

- Eau désaérée : uniquement $H_2O_{(l)}$.
- Enfin, une atmosphère avec pluie ou humide (cas pertinent pour les métaux) contient H_2O et O_2 .

→₂ Faire l'EC2.

2 – Dismutation

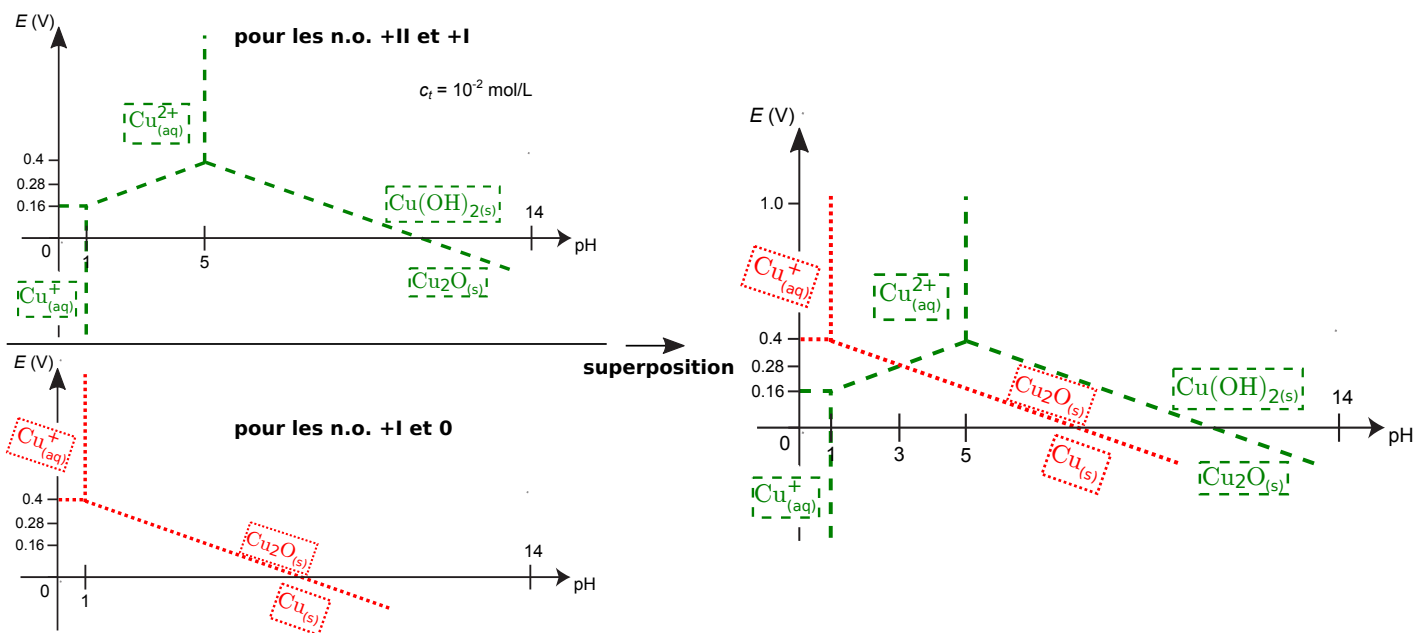
Intéressons nous à la construction du diagramme E-pH de l'élément cuivre.

On considère les espèces suivantes, qu'on a déjà rangé par n.o. et par basicité croissante :

n.o. = +II	$Cu_{(aq)}^{2+} Cu(OH)_{2(s)}$
n.o. = +I	$Cu_{(aq)}^+ Cu_2O_{(s)}$
n.o. = 0	$Cu_{(s)}$

↑ n.o. / ↓ basicité croissante

On peut alors calculer les positions et équations de toutes les frontières. On admet que ceci donne les graphiques ci-dessous.



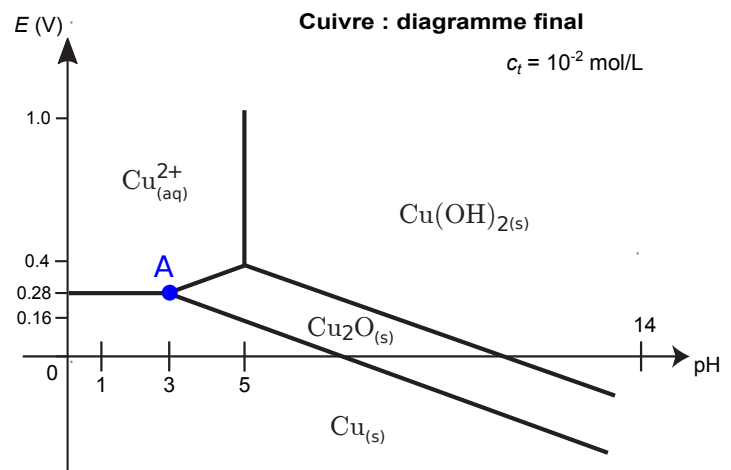
On remarque deux problèmes lors de la superposition des diagrammes :

- Les domaines de Cu^+ sont disjoints. Ainsi Cu^+ ne peut pas exister en solution. Il est d'une part réduit en $Cu_{(s)}$ et d'autre part oxydé en Cu^{2+} : c'est une réaction de dismutation.
- Même chose pour Cu_2O pour $pH \leq 3$. Lui aussi se dismute en $Cu_{(s)}$ et Cu^{2+} .

Bilan : la frontière pour $pH \leq 3$ est en fait directement entre $Cu_{(s)}$ et Cu^{2+} .

On obtient sa position comme d'habitude (demi-équation, Nernst), ce qui donne finalement le diagramme ci-contre.

On remarque que le point A du diagramme est à la frontière entre trois n.o. différents (0, I et II). Ceci est le signe que l'espèce de n.o. intermédiaire (ici Cu_2O) se dismute en les deux autres espèces si le pH est amené à faire sortir de la zone de n.o. intermédiaire.



→₃ Faire l'EC3.

Exemples de diagrammes E -pH

La convention aux frontières est : $p = p_{\text{tracé}} = 1$ bar pour la pression partielle des espèces gazeuses, et une concentration égale à $c_{\text{tracé}}$ (précisée sur la figure) pour toutes les espèces solubles concernées par la frontière.

Les deux droites en pointillés correspondent au diagramme de l'eau.

Les diagrammes non complets sont à compléter dans l'exercice II du TD.

