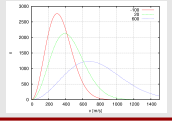


IV) Retour sur le gaz parfait : modélisation microscopique

1- Distribution des vitesses

v_1, v_2, \dots



2- Température cinétique

$$\frac{1}{2}mu^2 = \langle e_c \rangle = \frac{3}{2}k_B T$$

(u vitesse quadratique moyenne)

3- Énergie interne (cas monoatomique)

démonstration de $U = \frac{3}{2}nRT$

Ce qu'il faut savoir et savoir faire

_____ (cours : IV)

- ₁ Qu'est-ce que le "libre parcours moyen" dans un gaz ?
- ₂ Calculer l'ordre de grandeur de la vitesse quadratique moyenne dans un gaz parfait. → **EC4**
- ₃ Exprimer l'énergie interne d'un gaz parfait monoatomique (via l'interprétation microscopique de T). → **EC4**

Exercice C4 – Modèle cinétique du gaz parfait

On considère un gaz d'argon, que l'on décrit par le modèle du gaz parfait. On rappelle le lien entre l'énergie cinétique moyenne d'un atome du gaz, $\langle e_c \rangle$, et la température T : $\langle e_c \rangle = \frac{3}{2}k_B T$. Par ailleurs, la vitesse quadratique moyenne u des atomes du gaz est définie via $u^2 = \langle v^2 \rangle$. On rappelle que $R = N_A k_B$.

1 - Donner l'expression de la vitesse u en fonction de T , de la masse molaire M_{Ar} et de la constante des gaz parfaits. Que vaut-elle en ordre de grandeur pour une température ordinaire ?

2 - Démontrer l'expression qui donne l'énergie interne de n moles de gaz en fonction de la température.

On donne la masse molaire $M_{Ar} = 40 \text{ g/mol}$, la constante des gaz parfaits $R = 8,31 \text{ J} \cdot \text{K}^{-1} \cdot \text{mol}^{-1}$.

IV – Retour sur le gaz parfait : modélisation microscopique

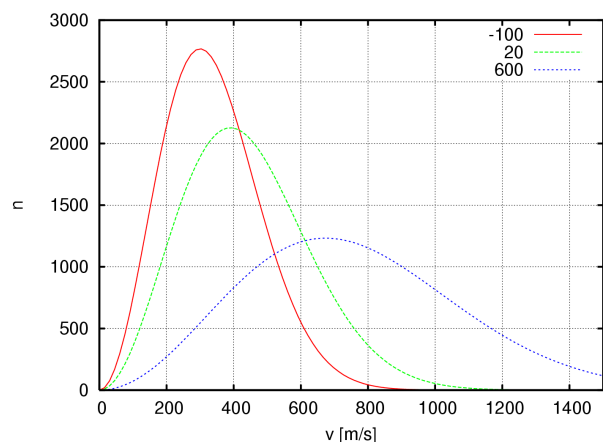
Nous pouvons justifier les conséquences du modèle du gaz parfait en sortant de la théorie de la thermodynamique, et en utilisant la théorie cinétique des gaz. Cette dernière consiste à étudier le gaz comme un ensemble de particules. Elle définit ses propres grandeurs, dont la température cinétique.

1 – Distribution des vitesses

Dans un gaz, les molécules n'ont pas toutes la même vitesse. Les vitesses $\vec{v}_1, \vec{v}_2, \dots, \vec{v}_N$ des N molécules du gaz suivent une certaine distribution.

Cette distribution est homogène (à chaque endroit du gaz, c'est la même) et isotrope (la distribution de la composante selon x est la même que celle selon y ou selon z , et sa moyenne est nulle car autant vont dans un sens que dans l'autre).

Ci-contre distribution de $\|\vec{v}\|$ pour du dioxygène à -100°C , 20°C et 600°C .



À l'équilibre thermodynamique, cette distribution de vitesse dépend uniquement de la température T du gaz.

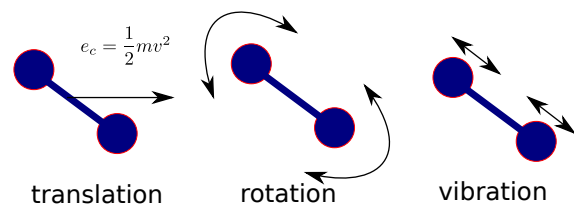
Ce sont les collisions qui sont responsables de ceci : elles permettent un échange d'énergie permanent entre les molécules, qui mène toujours à la même distribution.

Libre parcours moyen

On parle de **libre parcours moyen** pour désigner la distance parcourue par une molécule entre deux collisions. Il est d'environ 100 nm dans des conditions ambiantes.

2 – Température cinétique

Les constituants du gaz sont des molécules (ou des atomes). Dans le cas des molécules, leur énergie comprend trois contributions →



- **Température** : elle est proportionnelle à l'énergie cinétique de translation des constituants du gaz.

Lien entre $\langle e_c \rangle$ et T

En moyenne, l'énergie cinétique de translation **d'un** constituant du gaz est (relation admise)

$$\langle e_c \rangle = \frac{3}{2} k_B T, \quad (1)$$

avec $k_B = 1.38 \times 10^{-23} \text{ J} \cdot \text{K}^{-1}$ la constante de Boltzmann et $\langle \rangle$ signifiant "valeur moyenne".

Cette moyenne est prise sur un grand nombre N de constituants : $\langle e_c \rangle = \frac{1}{N} \sum_{i=1}^N \frac{1}{2} m v_i^2$.

↪₄ Par exemple, que vaut $\langle \vec{v} \rangle$ dans un gaz globalement au repos ?

Remarque : cette relation est en fait une définition de ce que l'on appelle la **température cinétique** du gaz (nous admettons qu'elle coïncide avec la température de la théorie de la thermodynamique).

- **Vitesse quadratique moyenne** : notée u , cette vitesse est définie comme l'écart-type de la distribution de vitesse :

$$u^2 = \langle v^2 \rangle = \frac{1}{N} \sum_{i=1}^N v_i^2.$$

Lien entre $\langle e_c \rangle$ et u

On a $\langle e_c \rangle = \frac{1}{2} m u^2$.

↪₅ Démontrer la relation ci-dessus.

↪₆ Évaluer l'ordre de grandeur de la vitesse quadratique moyenne des molécules de l'air à température ambiante. On donne $R = N_A k_B = 8,31 \text{ J} \cdot \text{K}^{-1} \cdot \text{mol}^{-1}$ et la masse molaire de l'air $M = 29 \text{ g/mol}$.

Remarque : on comprend donc pourquoi la température T est toujours positive, et pourquoi on ne peut pas descendre en dessous de 0 K : cela correspond à des particules toutes immobiles.

Conséquence : équation d'état des gaz parfaits

Sous les hypothèses du gaz parfait, la théorie cinétique permet de démontrer la fameuse relation $pV = nRT$. (admis)

3 – Énergie interne

On considère un gaz parfait monoatomique

L'énergie interne est l'énergie totale contenue dans le système, dans le référentiel \mathcal{R}^* dans lequel il n'a pas de mouvement d'ensemble. C'est la somme de :

- l'énergie cinétique de translation des constituants du gaz : pour N constituants, $N \times \langle e_c \rangle = N \times \frac{3}{2} k_B T$
- l'énergie de vibration ou de rotation des molécules $\xrightarrow{\text{gaz monoatomique}}$
- l'énergie potentielle d'interaction entre les atomes ou molécules $\xrightarrow{\text{gaz parfait}}$

$$\text{Donc en général : } U = E_{\text{cin,translation}} + E_{\text{vib}} + E_{\text{rot}} + E_{\text{p,int.}}$$

→₇ Simplifier l'expression ci-dessus dans le cas du modèle du gaz parfait monoatomique.

→₈ À partir de ceci et de la formule liant énergie cinétique moyenne par particule et T , démontrer l'expression de l'énergie interne en fonction de T pour n moles de gaz parfait monoatomique, puis de U_m . On utilisera le fait que $R = N_A k_B$.

⇒ On a bien démontré que U_m ne dépend que de T (alors que dans le cas général une grandeur intensive comme U_m dépend de deux grandeurs intensives : $U_m = U_m(T, V_m)$ par exemple).

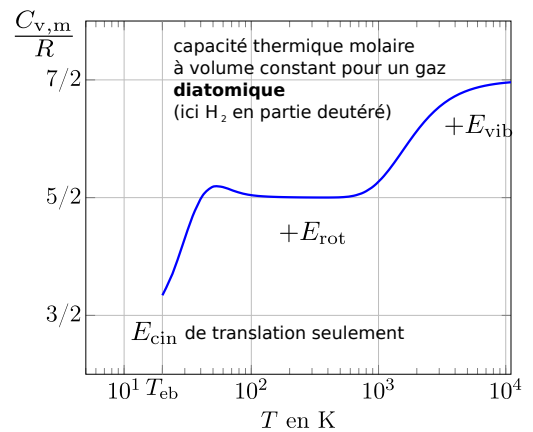
→₉ Quelle est l'expression de la capacité thermique molaire à volume constant du gaz parfait monoatomique ?

Remarque : cas du gaz parfait non monoatomique (pas à connaître) :

Les termes $E_{\text{vib}} + E_{\text{rot}}$ ne sont pas nuls. On a donc $U_m \neq \frac{3}{2} RT$.

Néanmoins, U_m dépend toujours uniquement de T : $U_m = U_m(T)$.

Quant à C_V , sa valeur n'est plus constante. On constate toutefois (graphe ci-contre) qu'elle reste constante sur de larges plages de températures.



Pour s'entraîner sur le modèle cinétique du gaz parfait : **EC4**.